













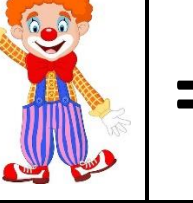


En el cuadrado que ves, cada uno de los personajes de este circo infantil tiene una edad diferente, y la suma de las edades de los personajes de cada fila está a la derecha, ¿sabrías decir cuál es la edad de cada uno de ellos?

Mago: \_\_\_\_\_ ; Payaso: \_\_\_\_\_ ; Domadora: \_\_\_\_\_ ; Bailarina: \_\_\_\_\_ ;

				=26
				=23
				=27
				=33